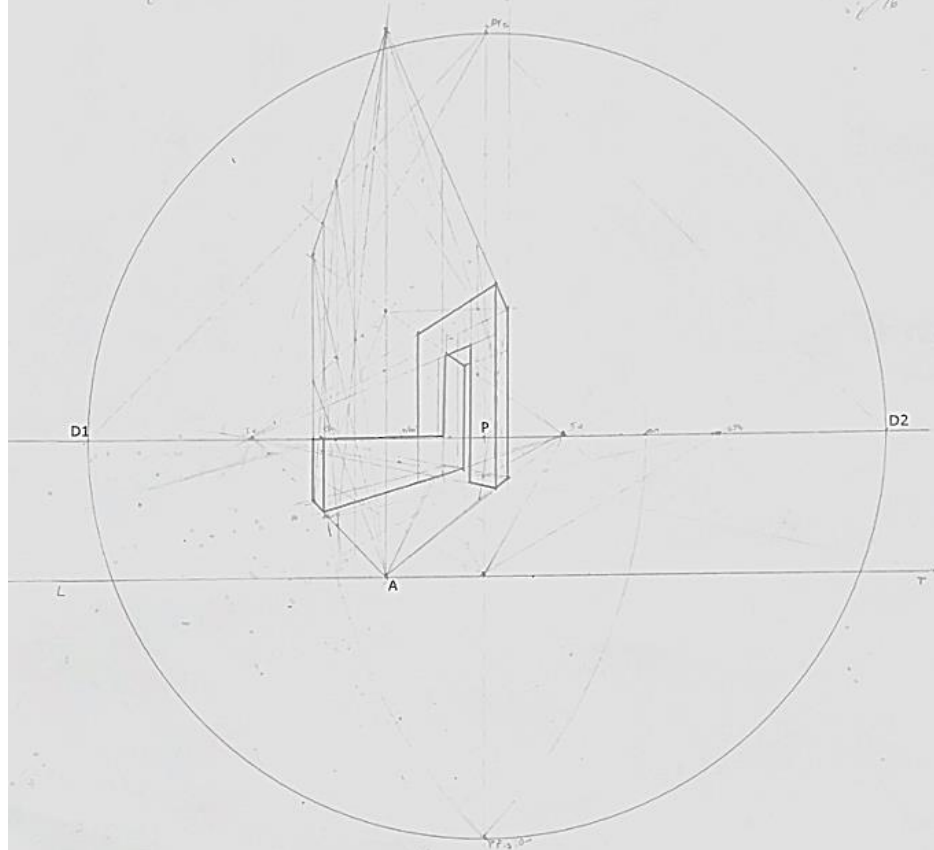
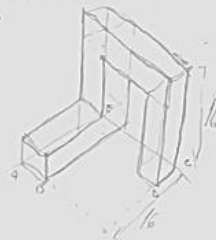

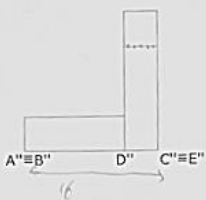


Dado o objecto abaixo representado em dupla projecção ortogonal, em duas projecções verticais determine a sua perspectiva, sabendo que o objecto se encontra assente no Geométral, e que os seus lados horizontais fazem ângulos de 30° à esquerda e 60° à direita. o objecto se encontra assente no Geométral, e que os seus lados horizontais fazem ângulos de 30° à esquerda e 60° à direita.

o objeto A, está no 1º quadrante



TURNA I

Mi Arquitectura - Turma 21

Nome: *Alfonso Simões*