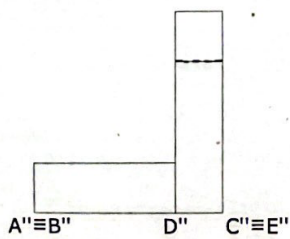
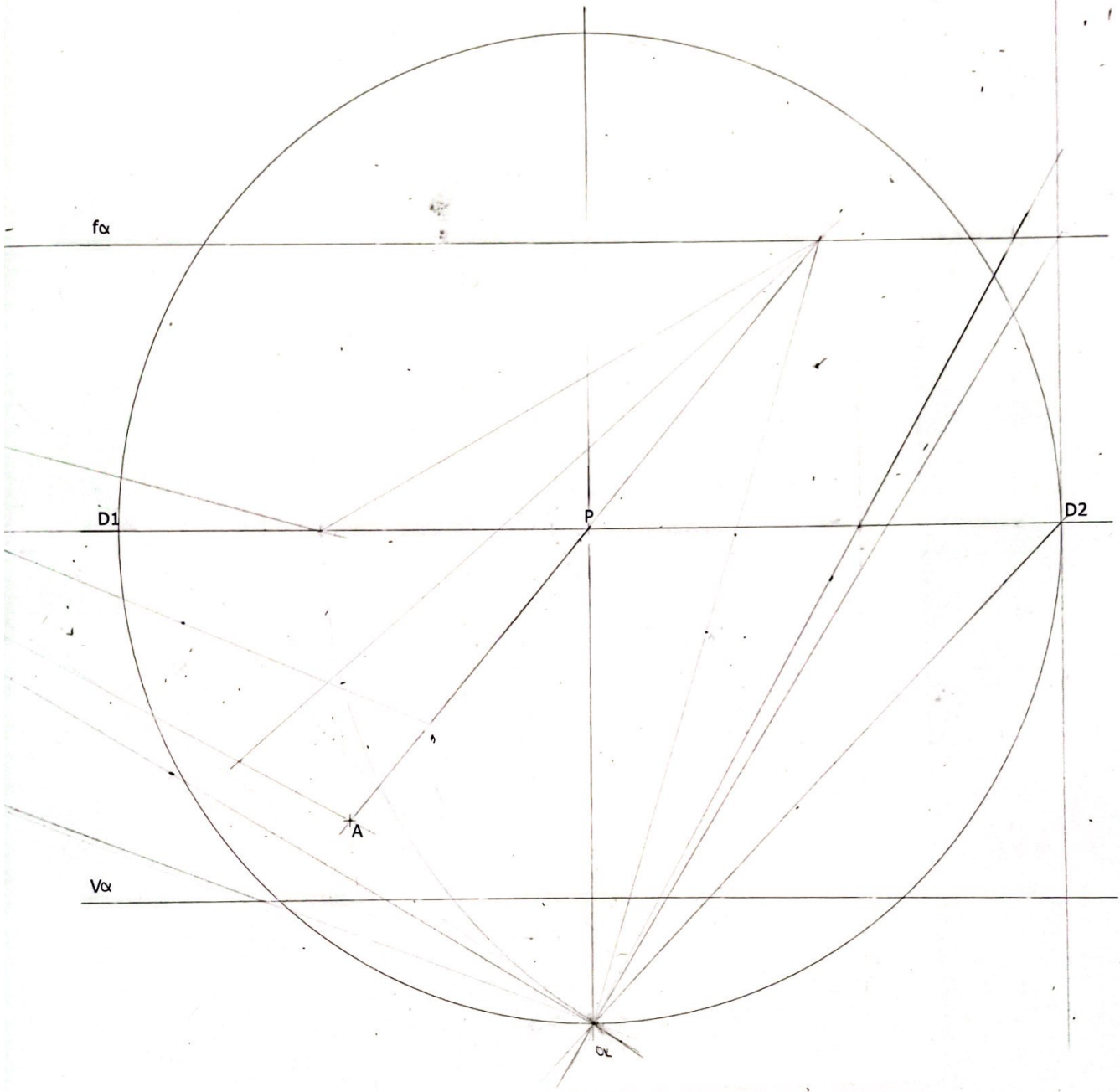
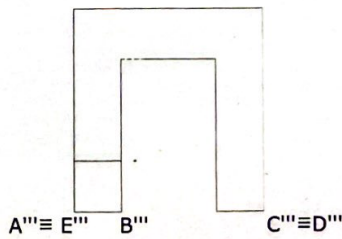


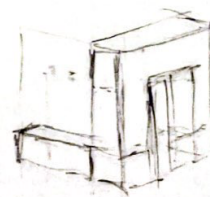
Dado o objecto abaixo representado em dupla projecção ortogonal, em duas projecções verticais determine a sua perspectiva, sabendo que o objecto se encontra assente no Geometral, e que os seus lados horizontais fazem ângulos de 30° à esquerda e 60° à direita. o objecto se encontra assente no Geometral, e que os seus lados horizontais fazem ângulos de 30° à esquerda e 60° à direita. e ponto A assente no plano α e o ponto médio próximo do quadro. A verdadeira grandeza do lado AE é igual a 6 cm.



fronte



lateral



Mi Arquitectura - Turma H

Nome: Pedro Tiago Vaccarella Santos